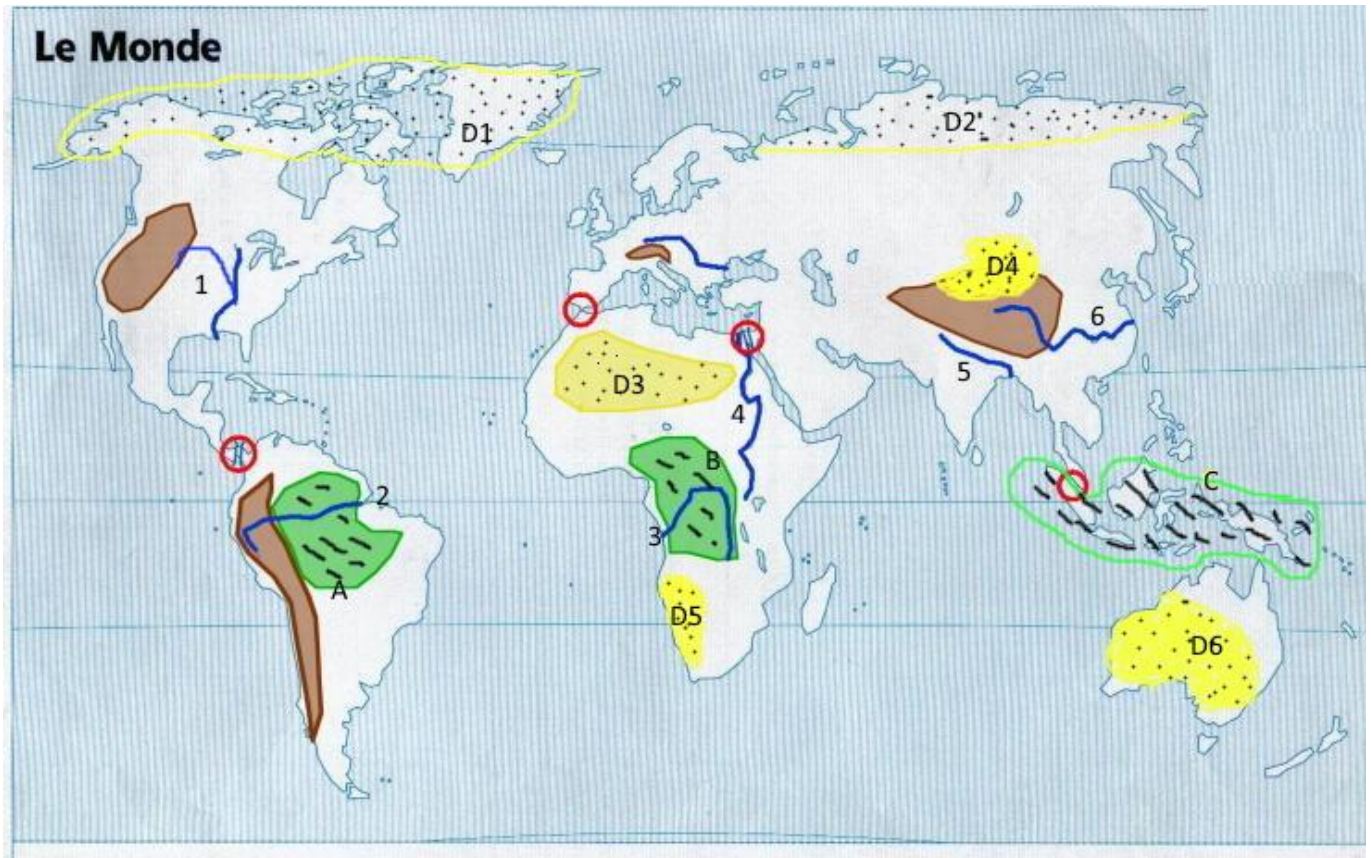


# ASPIC de MAGIZOOLOGIE

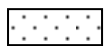


Niveau 10 : le Démonzémerville


**Compétence :** Je nomme et situe quelques grands fleuves, quelques déserts et quelques forêts.



Complète la légende de la carte :



\_\_\_\_\_



\_\_\_\_\_

Nomme les fleuves suivants :

1 : \_\_\_\_\_ 2 \_\_\_\_\_

3 \_\_\_\_\_ 4 \_\_\_\_\_

5 \_\_\_\_\_ 6 \_\_\_\_\_

Nomme les forêts suivantes :

A \_\_\_\_\_ B \_\_\_\_\_ C \_\_\_\_\_

Nommes les déserts suivants :

D1 : \_\_\_\_\_

D2 : \_\_\_\_\_

D3 : \_\_\_\_\_

D4 : \_\_\_\_\_

D5 : \_\_\_\_\_

D6 : \_\_\_\_\_

